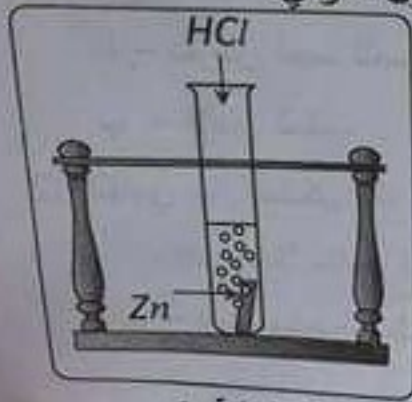


الجزء الأول: (12 نقطة)

التمرين الأول: (06 نقاط)

نسكب كمية كافية من محلول حمض كلور الماء (HCl)_{aq} في أنبوب اختبار يحتوي على صفيحة معدنية من الزنك (Zn) (الوثيقة - 1) ، فينتطلق غاز ويتشكل محلول شاردي.



الوثيقة -1-

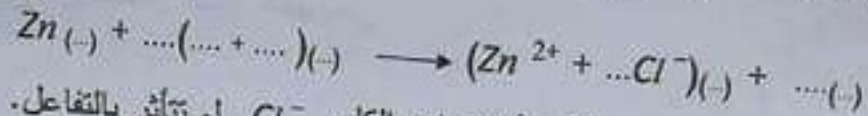
(1) صف ما يحدث لصفيحة الزنك.

(2) سمّ الغاز المنطلق من الأنبوب واكتب صيغته الكيميائية.


(3) اكتب الصيغة الكيميائية الشارديّة لحمض كلور الماء.

(4) أكمل ووازن المعادلة الكيميائية التآلية بالصيغة الشارديّة

ثم اكتبها بالصيغة الجزيئية.



(5) اقترح تجربة تبين من خلالها أن شوارد الكلور Cl^{-} لم تتأثر بالتفاعل.



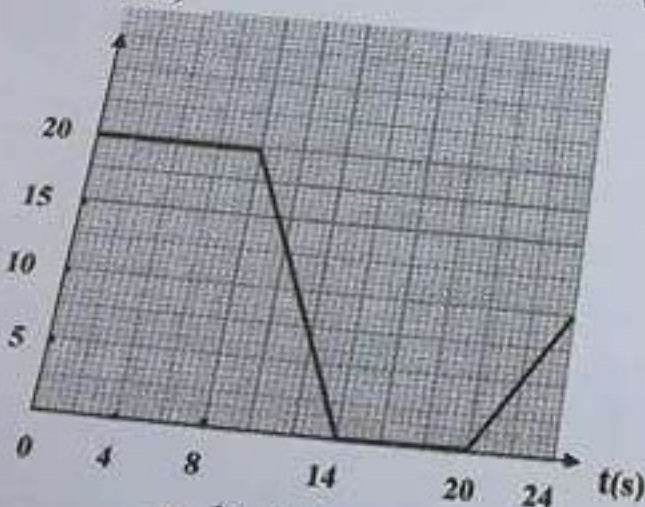
الوثيقة -2-

التمرين الثاني: (06 نقاط)

سيارة ثقلها 10000N تتحرك على طريق مستقيم أفقي.

سيارة ثقلها 10000N تتحرك على طريق مستقيم أفقي.

v(m/s)



الوثيقة -3-

(1) مثل على الوثيقة - 2 - ثقل السيارة باستعمال سلم الرسم 1cm → 5000N

(2) تمثل الوثيقة - 3 - مخطط سرعة حركة السيارة

أ- حدد مراحل الحركة في المجال الزمني [0s , 24s]

وانذكر كيف تكون السرعة في كل مرحلة.

ب- في إحدى المراحل تخضع السيارة لقوة لجهة عكس جهة الحركة.

ما هي هذه المرحلة؟ بّرر إجابتك.

ج - عيّن سرعة السيارة في اللحظتين 18s , 8s

الجزء الثاني: (08 نقاط)

الوضعية الإدماجية:

لتغيير مصباح كهربائي مثبت على جدار قاعة الاستقبال، فتح أحمد المقاطعة وصعد على سلم معدني مسند على الجدار، وأثناء تغييره للمصباح لمس أحد السلكين فتعرض لصدمة كهربائية وفي هذه الأثناء انزلق به السلم.

(1) فسّر سبب:

أ - تعرض أحمد للصدمة الكهربائية.

ب - انزلاق السلم.

(2) لتفادي هذا المشكل لابد من إدخال تعديل على السلم وعلى دارة المصباح:

أ - اقترح حلاً مناسباً لتجنب انزلاق السلم. بزر إجابتك

ب - ارسم مخططاً نظامياً لدارة المصباح الكهربائي يضمن سلامة المستعمل وحماية المصباح من أخطار التيار الكهربائي.



الوثيقة - 4 -